



# SINDHI HIGH SCHOOL, BANGALORE

Periodic Test III-2025-26

Subject - ENGLISH

Class: 5

Date: 27 /1/26

No. of Sides: 4

Max Marks: 30

Reading Time: 10 minutes

Writing Time: 1hr

## General Instructions

This paper contains **THREE** sections:

Section A-Reading-5Marks

Section B-Writing & Grammar- 15Marks

Section C-Literature- 10 Marks

**All sections are compulsory**

## SECTION A – Reading (6m)

Read the passage given below and answer the questions that follow. (1x6=6)

### Ratan Tata - A Visionary Leader

1. Ratan Naval Tata, born on December 28, 1937, in Mumbai, is a highly respected Indian industrialist and philanthropist. He is best known for his role as the former chairman of the Tata Group, one of India's largest and most global business groups. Ratan Tata's journey began with an architecture degree from Cornell University in 1962, followed by an advanced management program at Harvard Business School.
2. He joined the Tata Group in 1962, starting on the floor of Tata Steel, where he worked with blue-collar employees to understand the business from the grassroots level. In 1991, he was appointed chairman of the Tata Group, a decision initially met with criticism due to his relative inexperience. However, Ratan Tata answered his critics with remarkable achievements.
3. Under his visionary leadership, the Tata Group's revenues grew dramatically, and it expanded its global footprint through strategic international purchases. Notable achievements include the British companies Tetley Tea, Corus Steel, and the iconic luxury car brands Jaguar Land Rover from Ford Motors in 2008. He also

spearheaded the creation of the Tata Nano, the world's most affordable car, with the goal of providing safe transportation for the common Indian family.

4. Beyond business, Ratan Tata is celebrated for his commitment to ethical practices and social responsibility. A significant portion of the Tata Group's wealth is owned by charitable trusts, which channel resources into various social welfare initiatives like education, healthcare, and rural development. Honored with prestigious awards such as the Padma Bhushan (2000) and Padma Vibhushan (2008), Ratan Tata remains a role model for aspiring leaders and philanthropists.

**I. Choose the correct option.**

**a) Ratan Tata pursued his undergraduate degree in architecture from which university?**

- (i) Harvard Business School
- (ii) University of Mumbai
- (iii) Cornell University
- (iv) London School of Economics

**b) In which year did Ratan Tata become the chairman of the Tata Group?**

- (i) 1962
- (ii) 1991
- (iii) 2008
- (iv) 2012

**c) Ratan Tata is well-known for his commitment to:**

- (i) Personal wealth accumulation
- (ii) Aggressive competition with rivals
- (iii) Ethical practices and social responsibility
- (iv) Political involvement

**d) Pick out the correct antonym for the word 'initially'**

- i) Basically      ii) Finally
- iii) Principally      iv) Fundamentally

**e) Pick out the synonym from the passage that is similar for the word given below.**

i) Enlarged - \_\_\_\_\_ (Para-)

**f) What value did Ratan Tata show through Tata Group's charitable trusts?**

**SECTION - B**

(Writing Skill and Grammar)

**II Do as directed:**

**1. Fill in the blanks with correct conjunction.**

(1x5=5m)

- a) I wanted to go swimming, \_\_\_\_\_ it was raining.
  - b) He likes reading books. He likes drawing pictures.
  - c) Santhosh is \_\_\_\_\_ talented \_\_\_\_\_ hardworking.
- 2. Change the adjective to an adverb and fill in the blanks.**
- a) The athlete ran \_\_\_\_\_ (swift) around the track.
  - b) She performed \_\_\_\_\_ (remarkable) in the competition.

**III. Write an autobiography (80-100 words) of 'A robot helping in your home.' (5m)**

**SECTION C- LITERATURE (14m)**

**IV. Read the given extract and answer the questions that follow:**

(1x3=3)

So there's paint upon the ceiling,  
And pencil on the chair.  
There's pastel dust just everywhere,  
Mum's shrieking with despair.

- 1. What is scattered around the place?
- 2. How is the speaker's art process described here?
- 3. Which sentence relates to the meaning of the word 'shrieking'?
  - a) The woman shrieked in terror when she saw the snake.
  - b) She shrieked softly to the baby to make him sleep.
  - c) He shrieked the rules in a calm voice.
  - d) The girl shrieked the secret into her friend's ear so that no one could hear it.

**V. Answer in about 3-4 sentences:**

(3x2=6)

- a) Why did Ravi not give water to the old man? How was he punished?
- b) If you had a magic box, what would you fill it up with? Name any 3 things that the poet filled in his magic box that you would want in our box too.

c) Sketch the character of Anant from the lesson, 'The Concert' in 30 to 40 words.  
(1x5= 5m)

VI. Answer in about 6-7 sentences.

a) What qualities did the two maestros show? Explain with examples.

(OR)

b) How do we know that music played an important role in Anant's life? How did Smita ensure that her brother's dream was fulfilled?

\*\*\*\*\*



# SINDHI HIGH SCHOOL, KK ROAD

## PERIODIC TEST- III (2025-26)

### Subject - II Language Kannada

Grade: V

Total Marks: 30

Date: 20.01.26

Reading Time: 10 minutes

No of sides printed: 3

Writing Time: 1 hour

1. ಕೆಳಗಿನ ಗದ್ಯಭಾಗವನ್ನು ಓದಿ, ಪ್ರಶ್ನೆಗಳಿಗೆ ಸೂಕ್ತ ಉತ್ತರವನ್ನು ಅರಿಸಿ ಬರೆಯಿರಿ. 1x5=5

ಬೆಂಗಳೂರು ಕರ್ನಾಟಕ ರಾಜ್ಯದ ರಾಜಧಾನಿ. ಈ ನಮ್ಮ ನಗರವು 'ಉದ್ಯಾನನಗರಿ' ಎಂದು ಪ್ರಸಿದ್ಧವಾಗಿದೆ ಲಾಲ್ ಬಾಗ್ ಸಸ್ಯತೋಟವು 'ಉದ್ಯಾನಗಳ ರಾಣಿ' ಎಂದೇ ಕರೆಯಲ್ಪಡುತ್ತದೆ. ರಾಷ್ಟ್ರಕವಿ ಕುವೆಂಪು ಅವರಂತೂ ಇದರ ಸೌಂದರ್ಯಕ್ಕೆ ಮನಸೋತು 'ಸಸ್ಯಕಾಶಿ' ಎಂದು ಕರೆದಿದ್ದಾರೆ. ಲಾಲ್ ಬಾಗ್ ಅನ್ನು ಹೈದರಾಲಿ ನಿರ್ಮಿಸಿದನೆಂದು ಇತಿಹಾಸದಿಂದ ತಿಳಿದು ಬರುತ್ತದೆ. ಹಿಂದಿಯಲ್ಲಿ ಲಾಲ್ ಎಂದರೆ ಕೆಂಪು, ಬಾಗ್ ಎಂದರೆ ತೋಟ, ಕೆಂಪುಗುಲಾಬಿ ಹೂಗಳಿಂದ ಕಂಗೊಳಿಸುವ ಈ ಉದ್ಯಾನವನವು ಬಹಳ ಸುಂದರವಾಗಿದೆ.

ಹೈದರಾಲಿಯು ತನ್ನ ಆಡಳಿತದ ಅವಧಿಯಲ್ಲಿ ದೆಹಲಿ, ಲಾಹೋರ್, ಮುಲ್ತಾನ್ ಮೊದಲಾದ ಕಡೆಗಳಿಂದ ವಸ್ತುಗಳನ್ನು ತರಿಸಿ ಇದನ್ನು ಮೊಘಲ್ ಶೈಲಿಯಲ್ಲಿ ಅಭಿವೃದ್ಧಿಪಡಿಸಿದರು. ಲಾಲ್ ಬಾಗಿನ ಮತ್ತೊಂದು ಆಕರ್ಷಣೆ ಗಾಜಿನಮನೆ. ಇದನ್ನು ಲಂಡನ್ 'ಕ್ರಿಸ್ಟಲ್ ಪ್ಯಾಲೆಸ್' ಮಾದರಿಯಲ್ಲಿ ನಿರ್ಮಿಸಲಾಗಿದೆ. ಇಲ್ಲಿ ಸ್ವಾತಂತ್ರ್ಯ ದಿನಾಚರಣೆ ಹಾಗೂ ಗಣರಾಜ್ಯೋತ್ಸವದ ಅಂಗವಾಗಿ **ಮೈತ್ರಿ** ಪ್ರದರ್ಶನವನ್ನು ಏರ್ಪಡಿಸಲಾಗುತ್ತದೆ. ಲಾಲ್ ಬಾಗ್‌ನಲ್ಲಿ ವೈವಿಧ್ಯಮಯ ಸಸ್ಯರಾಶಿಯಲ್ಲದೇ ಕೆಂಪೆಗೌಡರು ತಮ್ಮ ದೂರದೃಷ್ಟಿಯ ಸಂಕೇತವಾಗಿ ನಿರ್ಮಿಸಿದ ನಾಲ್ಕುಗೋಪುರ, ಪುಷ್ಪ ಗಡಿಯಾರ, ತಾವರೆಕೊಳ, ಕೆರೆ, ವಾದ್ಯಮಂಟಪ, ಜಪಾನಿ ಮಾದರಿಯ ಉದ್ಯಾನಗಳು ಇವೆ. ಹುಲ್ಲುಹಾಸು, ಕಾರಂಜಿ, ಹಳೆಯ ಬಂಡೆಯಿದೆ. ಆದ್ದರಿಂದ ಇವೆಲ್ಲವನ್ನು ರಕ್ಷಿಸುವುದು ನಮ್ಮೆಲ್ಲರ ಕರ್ತವ್ಯವಾಗಿದೆ.

### ಪ್ರಶ್ನೆಗಳು:

೧. ಗಾಜಿನ ಮನೆಯನ್ನು ಈ ಮಾದರಿಯಲ್ಲಿ ನಿರ್ಮಿಸಲಾಗಿದೆ.....

- ಅ) ಗೋಲ್ಡನ್ ಪ್ಯಾಲೆಸ್                      ಆ) ಸಿಲ್ವರ್ ಪ್ಯಾಲೆಸ್  
ಇ) ಕ್ರಿಸ್ಟಲ್ ಪ್ಯಾಲೆಸ್                      ಈ) ಡೈಮೆಂಡ್ ಪ್ಯಾಲೆಸ್

೨. ಬೆಂಗಳೂರು ನಗರ ಹೀಗೆಂದು ಪ್ರಸಿದ್ಧವಾಗಿದೆ.....

- ಅ) ಅರಮನೆಗಳ ನಗರ              ಆ) ಬೆಣ್ಣೆನಗರಿ              ಇ) ಉದ್ಯಾನನಗರಿ              ಈ) ಪಿಂಕ್ ಸಿಟಿ

ಕೆಳಗಿನ ಪ್ರಶ್ನೆಗಳಿಗೆ ಸರಿಯಾದ ಉತ್ತರವನ್ನು ಆರಿಸಿ ಬರೆಯಿರಿ.

೩. ರಾಷ್ಟ್ರಕವಿ ಕುವೆಂಪು ಲಾಲ್ ಬಾಗ್‌ನ ಸೌಂದರ್ಯಕ್ಕೆ ಮನಸೋತು ಇಟ್ಟಿರುವ ಹೆಸರಿದು.....

- ಅ) ಗುವಾಕಾಶಿ      ಆ) ಉತ್ತರಕಾಶಿ      ಇ) ದಕ್ಷಿಣಕಾಶಿ      ಈ) ಸಸ್ಯಕಾಶಿ

೪. ಈ ಸುಂದರವಾದ ಲಾಲ್ ಬಾಗ್‌ನ್ನು ನಿರ್ಮಿಸಿದುದು.....

- ಅ) ಅಕ್ಕರ      ಆ) ಆದಿಲ್ ಶಾಹಿ      ಇ) ಟಿಪ್ಪುಸುಲ್ತಾನ್      ಈ) ಹೈದರಾಲಿ

೫. ಕರ್ನಾಟಕದ ರಾಜಧಾನಿ.....

- ಅ) ಮೈಸೂರು      ಆ) ದಾವಣಗೆರೆ      ಇ) ಬೆಂಗಳೂರು      ಈ) ಮಡಿಕೇರಿ

1x8=8

**II. ಈ ಕೆಳಗಿನ ಪ್ರಶ್ನೆಗಳಿಗೆ ಸರಿಯಾದ ಉತ್ತರವನ್ನು ಆರಿಸಿ ಬರೆಯಿರಿ.**

೧. 'ಕಂಗು' - ಈ ಪದದ ಸಮಾನಾರ್ಥ

- ಅ) ತೆಂಗು      ಆ) ಅಡಿಕೆ      ಇ) ಕಾವಡಿ      ಈ) ಕುಟೀರ

೨. ಮಾಡಿದುಣ್ಣೋ \_\_\_\_\_ ಈ ಗಾದೆಯ ಪೂರ್ಣರೂಪವಿದು

- ಅ) ಮಹನೀಯ      ಆ) ಪುಣ್ಯಾತ್ಮ      ಇ) ಮಹಾನುಭಾವ      ಈ) ಮಹಾರಾಯ

೩. ಮೂಡಣ-ಮೂಡುವ- ಈ ಪದಗಳ ಅರ್ಥವ್ಯತ್ಯಾಸ ಕ್ರಮವಾಗಿ ಹೀಗಿದೆ.

- ಅ) ಪೂರ್ವದಿಕ್ಕು- ಉದಯಿಸುವ      ಆ) ರಂಗು-ಮತ್ತು      ಇ) ಗಾಬರಿ-ಗೋಗರ      ಈ) ಬಾನು-ಕೊಳೆ

೪. 'ಅಭಿಮಾನ' - ಈ ಪದದ ವಿರುದ್ಧಪದ

- ಅ) ನಿರಭಿಮಾನ      ಆ) ಅನಭಿಮಾನ      ಇ) ಅಂಧಾಭಿಮಾನ      ಈ) ಸ್ವಾಭಿಮಾನ

೫. ರಸ್ತೆ ಬದಿಯಲ್ಲಿ ಒಣಗಿದ ಎಲೆಗಳು ರಾಶಿರಾಶಿಯಾಗಿ ಬಿದ್ದಿದ್ದವು- ಈ ವಾಕ್ಯದಲ್ಲಿರುವ ದ್ವಿರುಕ್ತಿ ಪದ

- ಅ) ರಸ್ತೆ      ಆ) ಬದಿಯಲ್ಲಿ      ಇ) ರಾಶಿರಾಶಿ      ಈ) ಬಿದ್ದಿದ್ದವು

೬. ಹುಬ್ಬಳ್ಳಿ, ರಾಜೀವ: ಅಂಕಿತನಾಮ :: ವ್ಯಾಪಾರಿ, ಶಿಕ್ಷಕ: \_\_\_\_\_

- ಅ) ಅಂಕಿತನಾಮ      ಆ) ಅಲ್ಪಪ್ರಾಣ      ಇ) ಸರ್ವನಾಮ      ಈ) ಅನ್ವರ್ಥನಾಮ

೭. 'ಕತ್ತಲೊಡನೆ' - ಬಿಡಿಸಿ ಬರೆದಾಗ ಬರುವ ರೂಪವಿದು

- ಅ) ಕತ್ತಲೆ+ಒಡನೆ      ಆ) ಕತ್ತಲು+ಒಡನೆ      ಇ) ಕತ್ತಲೊ+ಡನೆ      ಈ) ಕತ್ತ+ಲಾದೊಡನೆ

೮. ಕಾಡು, ಸುತ್ತಲೂ ಗಿಡಮರಬಳ್ಳಿ, ಅದರ ನಡುವೆ ಒಂದು ಪುಟ್ಟ ಕುಟೀರ. - ಈ ವಾಕ್ಯದಲ್ಲಿರುವ ಬಳಸಿರುವ ಲೇಖನಚಿಹ್ನೆ

- ಅ) ಪ್ರಶ್ನಾರ್ಥಕ ಚಿಹ್ನೆ-ಅಲ್ಪವಿರಾಮ      ಆ) ಭಾವಸೂಚಕ-ಪೂರ್ಣವಿರಾಮ  
ಇ) ಅಲ್ಪವಿರಾಮ-ಪೂರ್ಣವಿರಾಮ      ಈ) ಉದ್ಧರಣ- ಆವರಣ

**III. ಈ ಕೆಳಗೆ ಕೊಟ್ಟಿರುವ ವ್ಯಾಕರಣಾಂಶಗಳಿಗೆ ಸೂಚಿಸಿದಂತೆ ಬರೆಯಿರಿ.**

1x2=2

೧. ಕುಣಿದಾಡು- ಈ ಪದಕ್ಕೆ ಸ್ವಂತ ವಾಕ್ಯಮಾಡಿ.

೨. ತೇನ್ ಸಿಂಗನು ಹಿಮಾಲಯ ಪರ್ವತವನ್ನು ಹತ್ತಿದನು- ಈ ವಾಕ್ಯವನ್ನು ಭವಿಷ್ಯತ್ ಕಾಲಕ್ಕೆ ಬದಲಿಸಿ.

ಕೆಳಗಿನ ಪ್ರಶ್ನೆಗಳಿಗೆ ಒಂದು ವಾಕ್ಯದಲ್ಲಿ ಉತ್ತರಿಸಿ.

1x4=4

ದಶರಥನು ಎಲ್ಲಿ ನೆಲೆಸಿದ್ದನು?

ರವಿ ಏನನ್ನು ತೊಟ್ಟು ಶೃಂಗಾರದ ತಲೆ ಎತ್ತುವನು?

ಓ.ರವಿ ಯಾವುದಕ್ಕೆ ರಂಗನು ಮೆತ್ತುವನು?

೪.ಶ್ರವಣಕುಮಾರನ ತಂದೆ ತಾಯಿ ಮುಪ್ಪಿನ ಕಾಲದಲ್ಲಿ ಯಾವುದಕ್ಕೆ ಚಡಪಡಿಸಿದರು?

V. ಕೆಳಗಿನ ಪ್ರಶ್ನೆಗಳಿಗೆ ಎರಡು-ಮೂರು ವಾಕ್ಯಗಳಲ್ಲಿ ಉತ್ತರಿಸಿ.

2x4=8

೧. ಎಳೆಯ ರವಿ ಕೂಡಲ ಕೋಣೆಯಲ್ಲಿ ಮಾಡುವ ಕೆಲಸವೇನು? ರವಿ ಎಲ್ಲಿ ಕುಣಿದಾಡುವನು?

೨.ಶ್ರವಣಕುಮಾರನು ತನ್ನ ತಂದೆ ತಾಯಿಗಳನ್ನು ತೀರ್ಥಯಾತ್ರೆಗೆ ಹೇಗೆ ಕರೆದೊಯ್ಯನು?

೩.ಮೂಡಣ ದಿಕ್ಕಿನಲ್ಲಿ ರವಿ ಉದಯಿಸುವುದನ್ನು ಕವಿ ಹೇಗೆ ವರ್ಣಿಸಿದ್ದಾರೆ?

೪."ನನ್ನ ಮುಪ್ಪಿನ ತಂದೆ ತಾಯಿಗಳಿಗೆ ಇನ್ನಾರು ಗತಿ?" ಈ ಮಾತನ್ನು ಯಾರು ಯಾರಿಗೆ ಹೇಳಿದರು?

VI. ಕೆಳಗಿನ ವಿಷಯಗಳಲ್ಲಿ ಯಾವುದಾದರೊಂದನ್ನು ಕುರಿತು ೪-೫ ವಾಕ್ಯಗಳಲ್ಲಿ ಬರೆಯಿರಿ. 1x3=3

೧. ರಾಮಾಯಣ ಅಥವಾ ಮಹಾಭಾರತದಲ್ಲಿರುವ ನಿಮ್ಮ ನೆಚ್ಚಿನ ಒಂದು ಪಾತ್ರ.

೨. ಉದ್ಯಾನವನ



SINDHI HIGH SCHOOL, K K ROAD , BENGALURU-01

PERIODIC TEST – 3 (2025-26)

SUBJECT: HINDI (Additional Lang)

Date :22.01.2026

Max marks:30

Class: V

Reading Time :10 minutes

No of printed sides: 3

Writing Time: 1 hour

I निम्नलिखित गद्यांश को पढ़कर पूछे गए प्रश्नों के सही उत्तर छाँटकर लिखिए- (5)

एक चरवाहा रोजाना हरे-भरे पहाड़ पर अपनी बकरियों को चराने ले जाता था। एक भेड़िया हर दूसरे-तीसरे दिन उसकी बकरियों में से एक बकरी को चुपके से खा जाता था, जिससे उसकी बकरियों की संख्या कम होती जा रही थी। भेड़िये की इस धूर्तता से तंग आकर चरवाहे ने बकरियाँ चराना बंद कर दिया। बकरियों ने भी मौत से बचने के लिए बाड़े में कैद रहकर जुगाली करते रहना ही श्रेष्ठ समझा। एक युवा बकरी को यह बंधन पसंद नहीं आया। एक दिन वह बंधन तोड़कर पहाड़ की ओर चली गई।

1) चरवाहे ने बकरियाँ चराना क्यों बंद कर दिया?

(i) भेड़िये के डर से (ii) वह आलसी था (iii) शेर के डर से (iv) जंगल बहुत दूर था

2) चरवाहा बकरियों को चराने कहाँ ले जाता था?

(i) हरे-भरे पहाड़ों पर (ii) हरे-भरे खेत पर (iii) हरे-भरे मैदान (iv) नदी के किनारे

3) बकरियाँ कौन खाता था ?

(i) चरवाहा (ii) बाघ (iii) शेर (iv) भेड़िया

4) बकरियों ने मरने से बेहतर क्या समझा?

(i) बाड़े में कैद रहना (ii) आज़ाद रहना (iii) जंगल में रहना (iv) घर में रहना

5) किसे यह बंधन पसंद नहीं आया ?

(i) सबको (ii) चरवाहे को (iii) भेड़िये को (iv) युवा बकरी को सबको

II 1) दिए गए शब्दों के विलोम शब्द लिखिए :- (2)

i) प्रशंसा (ii) विद्या (iii) भीतर (iv) अभ्यास

2) दिए गए शब्दों के एक-एक पर्यायवाची लिखिए :-

(2)

i) किनारा (ii) लघु (iii) वीर (iv) नाव

3) दिए गए मुहावरों का अर्थ लिखो :-

(2)

i) पलके भरी होना (ii) खुशी से नाच उठना

4) वाक्य बनाओ :-

(2)

i) मुसीबत (ii) यात्रा

5) दिए गए शब्दों के मानक रूप लिखिए :-

(1)

i) पौन (ii) रसरी

III निम्नलिखित प्रश्नों के उत्तर एक वाक्य में लिखिए :-

(1x5=5)

1) विपत्ति किसे दहलाती है ?

2) गुलीवर ने बादशाह से क्या प्रार्थना की ?

3) बाधाएँ किसे प्यारी है ?

4) गुलीवर किन लोगों का खिलौना बना हुआ था ?

5) पंखे की हवा पाने के लिए हमें क्या करना पड़ता है ?

IV नीचे लिखे प्रश्नों को पढ़कर सही उत्तर छाँटकर लिखिए :-

(4)

1) क्या चीज़ गुलीवर के पैरों से रेंगते -रेंगते गुलीवर की छाती पर आ खड़ी हुई ?

i) चींटी (ii) मानव आकृति (iii) गुड़िया (iv) साँप

2) विद्या रूपी धन पाने के लिए हमें क्या करना चाहिए ?

i) आराम (ii) आलस (iii) परिश्रम (iv) नकल

3) सुई की जगह क्या काम नहीं कर सकता ?

i) डंडा (ii) बंदूक (iii) तलवार (iv) चाबुक

(2)

4) जहाज़ के टूटने पर गुलीवर किनारे पर कैसे आया ?

- i) तैरकर (ii) नाव से (iii) बहते हुए (iv) चलकर

V निम्नलिखित प्रश्नों के उत्तर दो-तीन वाक्य में लिखिए :-

- 1) गुलीवर कहाँ नौकरी करता था ? इस नौकरी से उसे क्या फ़ायदा हुआ? (2x2=4)  
2) सिल पर निशान कैसे पड़ जाते हैं ?

VI दिए गए किसी एक विषय पर 8-10 वाक्यों में एक अनुच्छेद लिखिए :-

- i) पुस्तकालय (ii) यदि मैं वृक्ष होता

(3)



**SINDHI HIGH SCHOOL, K.K. ROAD, BENGALURU**  
**Periodic Test-3 (2025-2026)**  
**Subject - MATHEMATICS**

Date : 21/01/26

Class: 5

Number of sides: 2

Marks: 30

Reading time : 10 min

Writing time: 1 hour

General instructions

All questions are compulsory.

Part - A consists of 6 MCQs carrying 1 mark each

Part - B consist of 3 short answer questions carrying 2 marks each

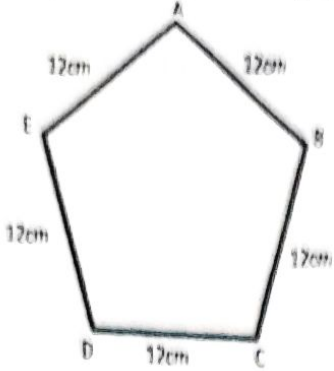

Part - C consist of 3 short answer questions carrying 3 marks each

Part - D consist of 1 questions carrying 5 marks

Part - E consists of one case study question carrying 1+2+1=4marks

Sl No.	Part A	Marks
1.	A square has a side of 14 cm whose perimeter is _____. a) 18 cm      b) 56 cm      c) 28 cm      d) 56 m	1
2.	What time will it be 4 hours after 8:35 am? a) 12:35am    b) 4:35am      c) 12:35pm    d) 6:35pm	1
3.	A piece of string 28cm long is bent to form a square, the area of square is _____. a) 7 cm      b) 49 cm      c) 49 sq.cm    d) 14 cm	1
4.	If January 1 <sup>st</sup> is a Thursday, what day will January 9 <sup>th</sup> be? a) Thursday    b) Saturday    c) Monday    d) Friday	1
5.	The amount of surface covered by a shape is called its _____. a) perimeter    b) area      c) boundary    d) length	1
6.	Meena will be 58 years in 2025. What was her age in 1998? a) 26      b) 30      c) 38      d) 51	1

Part B		
7.	A window frame in the shape of a rectangle is 90cm long and 25cm wide. How much cloth will be required to cover it completely ?	2
8.	Nisha takes 3 hours 45 minutes to complete her work. How many minutes does she take to complete her work ?	2

9	<p>Find the perimeter of the given shape?</p> 	2
<b>Part -C</b>		
10	Rohan left his home at 9:30 am for the market and returned home at 11:10 am. How long was he away from home?	3
11	What will be the cost of painting the boundary of a park of length 8m and breadth 7m at the rate of ₹ 15 per metre?	3
12	Riya practices handwriting for 60 days starting from July 20 <sup>th</sup> . On which date does she finish? ( Show the steps )	3
<b>Part -D</b>		
13	<p>a) A square shaped room measures 8 m on one side. What is the area of the room?  b) The area of a rectangle is 63 sq. cm. If its length is 9 cm, find its breadth?</p>	5
<b>Part -E</b>		
14	<p><b>Case Study :</b>  The school starts at 8:15 am. There are 5 periods each of 40 minutes and a 20 minutes break after the third period.</p>  <p>a) At what time does the first period end?  b) What is the duration of time for the first three periods in total? (answer in hours and minutes)  c) When does the break time start?</p>	<p>1  2  1</p>





**SINDHI HIGH SCHOOL, K.K. ROAD, BENGALURU-01**  
**PERIODIC TEST 3: (2025-2026)**  
**SUBJECT- SCIENCE**


**Class: V**  
**Date: 19.1.2026**  
**No. of sides: 02**

**Max Marks: 30**  
**Reading Time: 10 Mins**  
**Writing Time: 1 Hour**

**General instructions:**

Write your name, roll number, class, section, date and subject clearly in your answer script.  
 Write the page number on the top corner of each side of the paper.  
 All questions are compulsory.

Sl.No	QUESTIONS	MARKS										
I	<b>Complete the analogy.</b> 1. Skull: 22 bones :: Ribcage: _____ 2. _____: Ozone hole :: Pesticide: Water Pollution 3. Chemical energy: _____ :: Sailboats: Wind energy 4. Fixed joint: bones of brain box :: Movable joint: _____	4*1=4										
II	<b>Fill in the blanks.</b> 1. _____ muscles are found in the heart. 2. _____ is a gas produced by the breakdown of organic matter in the absence of oxygen. 3. The longest bone in our body is _____ 4. _____ force tries to stop the moving objects.	4*1=4										
III	<b>Match the following.</b> <table border="1" style="margin-left: 20px;"> <thead> <tr> <th>A</th> <th>B</th> </tr> </thead> <tbody> <tr> <td>1. Falling of leaves</td> <td>a. Heat energy</td> </tr> <tr> <td>2. Burning fuel</td> <td>b. Dumping of garbage</td> </tr> <tr> <td>3. Land Pollution</td> <td>c. Polluted water</td> </tr> <tr> <td>4. Typhoid</td> <td>d. Gravitational force</td> </tr> </tbody> </table>	A	B	1. Falling of leaves	a. Heat energy	2. Burning fuel	b. Dumping of garbage	3. Land Pollution	c. Polluted water	4. Typhoid	d. Gravitational force	4*1=4
A	B											
1. Falling of leaves	a. Heat energy											
2. Burning fuel	b. Dumping of garbage											
3. Land Pollution	c. Polluted water											
4. Typhoid	d. Gravitational force											
IV	<b>Differentiate between the following.</b> 1. Voluntary muscles and Involuntary muscles 2. Biodegradable pollutants and Non-biodegradable pollutants	2*2=4										
	3.(a) Identify the joints shown in the below picture and mention the particular direction of movement it allows in the human body. <div style="display: flex; justify-content: space-around; align-items: center;"> <div style="text-align: center;"> <p>A</p>  </div> <div style="text-align: center;"> <p>B</p>  </div> </div>	2										

	(b) What would be the impact if the vertebral column were fused into a single bone.	1
V	<p><b>Answer the following.</b></p> <p>1. At the Bhakra Nangal Dam, a huge amount of water is stored in a reservoir. When the gates of the dam are opened, the water rushes down with great force. This fast-moving water makes large turbines spin. The spinning turbines are connected to machines called generators. These generators help produce electricity, which is then supplied to homes, schools, and factories.</p> <p>a) Which type of energy is stored in water at a height?  b) When water flows down, identify the energy that the moving water possesses?  c) State the energy obtained from water.</p> <p>2.(a) Mention the role played by the human structure shown in the given image. (four points)</p>  <p>(b) Ravi fell from his bicycle and the doctor said he had a fracture in his arm . Identify and name the tissue that is damaged.</p>	<p>3*3=9</p> <p>1</p> <p>1</p> <p>1</p> <p>2</p> <p>1</p>
VI	<p>Delhi has consistently ranked among the most polluted cities in the world. During winter months, air quality often falls into the "hazardous" category due to a combination of factors such as vehicular emissions, industrial activities, construction dust, and seasonal crop residue burning in neighbouring states. The Air Quality Index (AQI) frequently exceeds 400, leading to severe health risks including respiratory illnesses, cardiovascular problems, and reduced life expectancy.</p> <p>a) Suggest any three <b>long-term strategies</b> that could reduce air pollution.  b) How does acid rain occur?  c) Name any two major greenhouse gases responsible for global warming.</p>	<p>3</p> <p>1</p> <p>1</p>






Sindhi High School, K. K Road, Bangalore  
 Periodic Test -3 (2025-26)  
 Subject: Social Science

Grade: 5 A/B/C  
 Date:23.01.2026  
 No.of Sides: 2

Total Marks: 30  
 Reading time: 10min  
 Writing time: 1hour

1.	Choose the correct option –	(1x4=4)
i)	Indians were forced to produce crops such as _____ and _____. a)wheat and rice b) cotton and rice c) cotton and indigod) all the above	1
ii)	The _____ road is one of the oldest highway in India. a)Grand trunk b)NH1 c) broad roads d) Golden trunk	1
iii)	The _____ movement encourage the use of goods manufactured by Indians. a) Vedeshi b) swadeshi c) boycott d)deshi	1
iv)	The seat of the central government was shifted from Calcutta to _____. a)Maharashtra b)Delhi c) Madhya Pradesh d) Goa	1
2.	Match the following:- i)Inland a)fast railway system ii)Metro b)rivers iii)Postal service c)four large cities iv) Golden Quadrilateral d)letters	(1x4=4) 1 1 1 1
3.	Arrange the following in chronological order: i)Annulment of Partition of Bengal ii)End of EEIC's rule. iii)Partition of Bengal iv) Rowlatt Act.	(1x4=4) 1 1 1 1
4.	Analogy: i)Bal Gangadhar :Home Rule League :: Ishwarchandra Vidyasagar : _____ ii)Courier : fast way of sending letters :: _____ : broadcast news. iii)Transport : carrying people : : _____ : exchange of information.	(1x3=3) 1 1 1
5	Define : mass media	1
6	Name any two important revolutionaries at the beginning during the year 1905?	1
7	Who invented telephone?	1
8	What was the demand of Indian leader after World War I?	1
9	List the four modes of transport.	1
10	Mention any two aims of of INC.	2

<p><b>11</b></p>	<p>Identify the pictures of mass communication and state its use.</p> <div style="display: flex; justify-content: space-around; align-items: center;"> <div style="text-align: center;">  <p>i)</p> </div> <div style="text-align: center;">  <p>ii)</p> </div> <div style="text-align: center;">  <p>iii)</p> </div> </div>	<p><b>3</b></p>
<p><b>12</b></p>	<p>a) Mention the three aspects of the boycott movement.  b) b) )What were the causes behind the Partition of Bengal?</p>	<p><b>3</b> <b>2</b></p>

.....